





Sehenswürdiges



1 Thüringen

Die Wartburg wurde zum ersten Mal um 1080 auf einem Bergfelsen oberhalb der Stadt Eisenach errichtet. Von 1211 bis 1227 lebte hier die Heilige Elisabeth. Auch Martin Luther lebte von 1521 bis 1522 auf der Burg und übersetzte dort einen Teil der Bibel ins Deutsche. Die Wartburg ist eine der meistbesuchten Burgen in Deutschland.

2 Bayern

Mit 2962 Metern ist die Zugspitze Deutschlands höchster Berg. Jährlich besuchen rund eine halbe Million Gäste die Zugspitze mit der Zugspitzbahn. Auf dem Gipfel hat man bei schönem Wetter einen beeindruckenden Blick über die Bergwelt der Alpen. Bei guter Sicht kann man bis nach Italien blicken.

3 Nordrhein-Westfalen

Der Kölner Dom ist etwa 770 Jahre alt und immer noch ein beliebtes Reiseziel für Touristen in Deutschland. Die Kirche hat zwei hohe Türme und sehr viele schöne Glasfenster. Die beiden Türme sind 157m hoch und man kann über

533 Stufen bis zu den Spitzen hinaufklettern. Wenn ihr einmal da seid, könnt ihr ja nachzählen!


4 Freie Hansestadt Bremen

Haben die Bremer Stadtmusikanten eigentlich jemals die Stadt Bremen erreicht? Wenn du es nicht weißt, dann lies im Märchen nach. Jedenfalls ist den Stadtmusikanten neben dem Rathaus in Bremen ein schönes Denkmal errichtet worden.

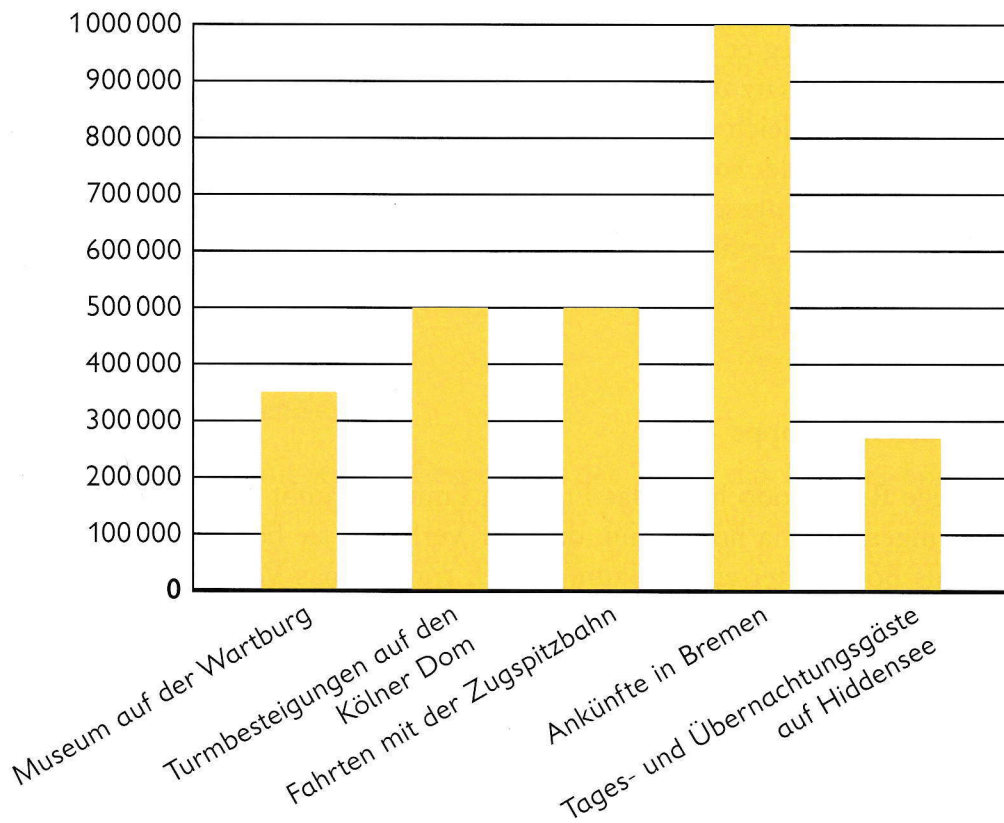
5 Mecklenburg-Vorpommern

Hiddensee ist eine kleine Insel in der Ostsee. Ihre Form ähnelt einem Seepferdchen. Die Insel ist rund 17 km lang. An der schmalsten Stelle ist sie nur 250 m breit.

Auf Hiddensee gibt es keinen Autoverkehr. Nur der Arzt, die Polizei, Feuerwehr und Post sowie der Schulbus haben eine Fahrgenehmigung. Alle anderen fahren Fahrrad oder benutzen Pferdefuhrwerke. Die Schule liegt nur wenige Schritte vom Strand entfernt. Deshalb können die Kinder im Sommer Sportunterricht am Strand machen.



Besucherzahlen der Sehenswürdigkeiten im Jahr



- Lies die Texte genau. Ordne den Texten 1–5 die passenden Bilder A–E zu.
- Was haben die Informationstexte und das Diagramm gemeinsam?
- Welche Information aus dem Diagramm findest du besonders interessant? Benenne die Art des Diagramms. Orientiere dich dabei an Schritt 1 auf Seite 98.